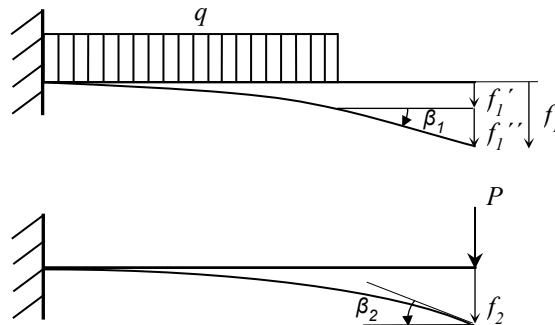


Problème1

1. Schéma décomposé des cas de charge



2. Flèche à l'extrémité de la poutre pour chaque cas (sur la base de l'annexe)

Pour la charge répartie on a

$$f_1 = f_1' + f_1'' = f_1' + \beta_1 \cdot b = \frac{qa^4}{8EI} + b \cdot \frac{qa^3}{6EI} = \frac{qa^3}{EI} \left(\frac{a}{8} + \frac{b}{6} \right)$$

$$\beta_1 = \frac{qa^3}{6EI}$$

Pour la charge ponctuelle on trouve

$$f_2 = \frac{P(a+b)^3}{3EI}$$

$$\beta_2 = \frac{P(a+b)^2}{2EI}$$

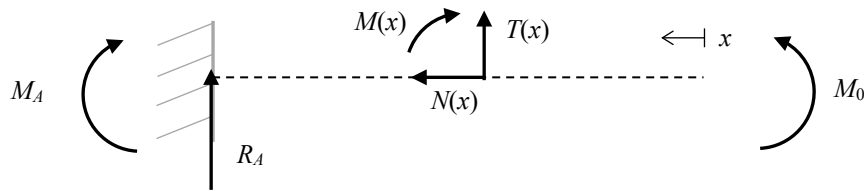
3. D'où, par superposition :

$$f = f_1 + f_2 = \frac{qa^3}{EI} \left(\frac{a}{8} + \frac{b}{6} \right) + \frac{P(a+b)^3}{3EI}$$

$$\beta = \beta_1 + \beta_2 = \frac{qa^3}{6EI} + \frac{P(a+b)^2}{2EI}$$

Problème 2

1. Schéma



2. Equilibre des forces et moments de force

Les forces normale et tangentielles sont nulles $T = N = 0$

Avec le choix des axes défini sur la figure, le moment fléchissant dans la section d'abscisse x s'écrit : $M(x) = -M_0$

3. En introduisant l'expression du moment de force dans l'équation différentielle de la déformée, on obtient

$$y'' - \frac{M(x)}{EI} = \frac{M_0}{EI}$$

$$y' = \frac{M_0}{EI}(x + c_1)$$

$$y = \frac{M_0}{EI} \left(\frac{x^2}{2} + c_1 x + c_2 \right)$$

4. Les constantes d'intégration c_1 et c_2 sont déterminées par les conditions aux limites

$$\begin{cases} y(x = \ell) = \frac{M_0}{2EI}(\ell^2 + 2\ell c_1 + 2c_2) = 0 \\ y'(x = \ell) = \frac{M_0}{EI}(\ell + c_1) = 0 \end{cases}$$

$$\begin{cases} c_1 = -\ell \\ c_2 = \ell^2/2 \end{cases}$$

5. Déformée et flèche

L'équation de la déformée est par conséquent : $y = \frac{M_0}{2EI}(x^2 - 2\ell x + \ell^2)$

La flèche apparaît en $x = 0$: $f_{\max} = \frac{M_0 \ell^2}{2EI}$

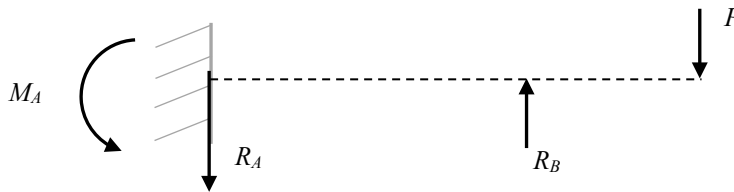
Cette valeur de f_{\max} est donnée par l'annexe II. En ce qui concerne l'équation de la déformée, l'abscisse x définie ci-dessus correspond à l'abscisse $(\ell - x)$ dans l'annexe II.

En remplaçant dans l'équation $y = f(x)$ ci-dessus x par $\ell - x$ et y par $-y$ on doit donc retrouver

l'équation donnée par l'annexe II : $y = -\frac{M_0}{2EI} [(\ell - x)^2 - 2\ell(\ell - x) + \ell^2] = -\frac{M_0}{2EI} x^2$

Problème 3

1. Schéma



2. Equilibre des forces et des moments de force (3 inconnues → superposition de cas)

$$\Sigma F = P + R_A - R_B = 0$$

$$\Sigma M = M_A + R_B \ell - P(\ell + \alpha \ell) = 0$$

3. Cas de charge sans R_B : Si l'appui B n'existait pas, l'équation de l'élastique due à la charge P serait :

$$y(x) = \frac{P}{6EI} [3(1 + \alpha)\ell x^2 - x^3]$$

$$f_{B1} = y(x = \ell) = \frac{P\ell^3}{6EI} (3\alpha + 2)$$

4. Cas de charge sans P :

$$y(x) = \frac{-R_B}{6EI} [3\ell x^2 - x^3]$$

$$f_{B2} = y(x = \ell) = \frac{-R_B \ell^3}{6EI}$$

5. Superposition des cas de charge : la réaction R_B dirigée vers le haut provoque une flèche f_{B2} opposée à f_{B1} , de sorte que le déplacement du point B est nul :

$$f_B = f_{B1} + f_{B2} = 0$$

Et donc

$$R_B = \frac{3\alpha + 2}{2} P$$

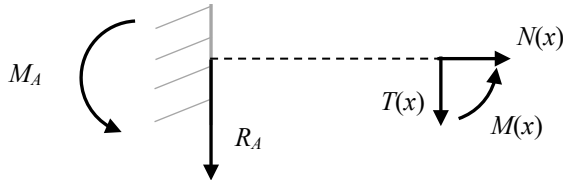
6. Calcul de la flèche en C : la flèche en C est la somme algébrique des flèches dues à P et R_B agissant séparément.

Action de P $f_{C1} = (1 + \alpha)^3 \frac{P\ell^3}{3EI}$

Action de R_A $f_{C2} = f_{B2} - \beta_{B2}\alpha\ell = -\frac{R_B\ell^3}{3EI} - \frac{R_B\ell^2}{2EI}\alpha\ell$

D'où la flèche en C $f_C = f_{C1} + f_{C2} = (3 + 4\alpha)\alpha^2 \frac{P\ell^3}{12EI}$

7. Calcul des moments de force



Entre $0 \leq x \leq \ell$

Equilibre des moments de force

$$\Sigma M_x = M(x) + M_A + R_A x = 0$$

Avec R_B connu

$$R_A = R_B - P = \frac{3\alpha}{2}P$$

$$M_A = P(\ell + \alpha\ell) - R_B\ell$$

Et donc

$$M(x) = -\frac{3\alpha}{2}Px + \frac{\alpha\ell}{2}P$$

$$M(x=0) = \frac{\alpha\ell}{2}P \quad \text{et} \quad M(x=\ell) = -\alpha\ell P$$

8. Diagramme des efforts

Entre $\ell \leq x \leq \ell + \alpha\ell$: on sait que $M(x)$ est linéaire et que $M(x = \ell + \alpha\ell) = 0$

